

Posuvky: Křížek – IS

Běčko - ES

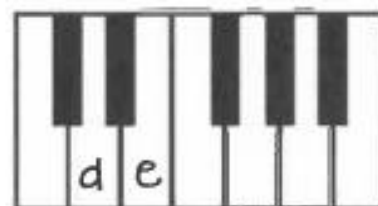
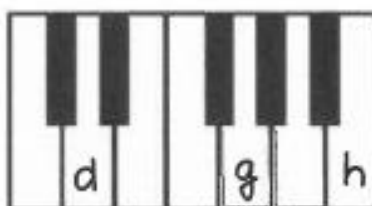
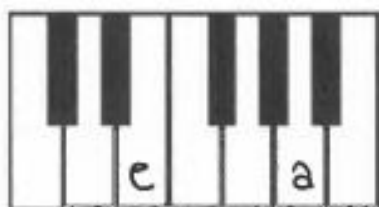
ukázka

g₁ g_{1s1}

ukázka

h₁ hes

Doplň názvy kláves



Doplň věty

1. Mezi klávesou CIS a DIS je klávesa _____
2. Mezi klávesou G a A je klávesa _____ nebo také _____
3. Mezi klávesou E a FIS je klávesa _____ nebo také _____
4. O půl tónu výše od klávesy E je klávesa _____ nebo také _____
5. Mezi klávesou D a E je klávesa _____ nebo také _____

Opíš běčko v mezeře:



Opíš běčko na lince:



Opíš křížek v mezeře:



Opíš křížek na lince:

