






Test malého turisty – vyber a zakroužkuj A, B či C nebo napiš odpověď

1. Turistické pásové značení používá 4 barvy. Jaké? A/ modrou, žlutou, červenou, hnědou
B/ červenou, zelenou, modrou, oranžovou C/ červenou, žlutou, modrou, zelenou
2. Tato červená turistická značka je svým významem mezi ostatními barvami nejdůležitější.
Je to pravda? ano / ne 
3. Ve znaku Královéhradeckého kraje je: A/ lev, písmeno G a královská koruna
B/ lev, věž a královská koruna C/ lev, věnec a královská koruna
4. Tahle turistická významová značka značí: A/ odbočku ke kostelu nebo jiné památce
B/ odbočku k hradu nebo zřícenině hradu C/ odbočku k rozhledně 
5. Když je památka movitá, znamená to, že je: A/ chráněná státem B/ významná i v rámci Evropy
C/ přenosná – dá se s ní hýbat = předmět
6. Znáte nějaké rozhledny v naší republice? Napište alespoň 3 z nich:

7. V kterém městě byste našli náš nejstarší kamenný most? _____

8. Poznáte tyto hrady a zámky? Napište:



9. K čemu slouží busola a kompas?

- A/ k určování světových stran a orientaci v terénu B/ k hledání v turistické mapě
C/ k měření vzdáleností na turistické mapě

10. Co znamenají zelené plochy v turistické mapě? A/ louky a pole B/ neobydlená místa bez zástavby C/ lesy

11. Jak se liší hrad od zámku? A/ hrad je starší, opevněný, přizpůsobený místu stavby
B/ hrad je krásný, pohodlný a v zahradě C/ zámek je starší, větší a bez zahrady

12. Jak se nazývá způsob uspořádání polen na obrázku, který se používá pro slavnostní a společenský oheň?

